


Name


Date



COUNT TO 100 BY ONES SHEET 2

Each of these sequences goes up by ones.

Fill in the missing numbers.



1)

56		58	59			62	
----	--	----	----	--	--	----	--

2)

	43			46	47		
--	----	--	--	----	----	--	--

3)

87		89			92		
----	--	----	--	--	----	--	--

4)

	16		18			21	
--	----	--	----	--	--	----	--

5)

		55			58	59	
--	--	----	--	--	----	----	--

6)

80			83			86	
----	--	--	----	--	--	----	--

7)

	30	31			34		
--	----	----	--	--	----	--	--

8)

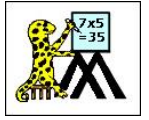
		47		49			52
--	--	----	--	----	--	--	----

9)

	90					95	
--	----	--	--	--	--	----	--

Name

Date



COUNT TO 100 BY ONES SHEET 2 ANSWERS

1)

56	<u>57</u>	58	59	<u>60</u>	<u>61</u>	62	<u>63</u>
----	-----------	----	----	-----------	-----------	----	-----------

2)

<u>42</u>	43	<u>44</u>	<u>45</u>	46	47	<u>48</u>	<u>49</u>
-----------	----	-----------	-----------	----	----	-----------	-----------

3)

87	<u>88</u>	89	<u>90</u>	<u>91</u>	92	<u>93</u>	<u>94</u>
----	-----------	----	-----------	-----------	----	-----------	-----------

4)

<u>15</u>	16	<u>17</u>	18	<u>19</u>	<u>20</u>	21	<u>22</u>
-----------	----	-----------	----	-----------	-----------	----	-----------

5)

<u>53</u>	<u>54</u>	55	<u>56</u>	<u>57</u>	58	59	<u>60</u>
-----------	-----------	----	-----------	-----------	----	----	-----------

6)

80	<u>81</u>	<u>82</u>	83	<u>84</u>	<u>85</u>	86	<u>87</u>
----	-----------	-----------	----	-----------	-----------	----	-----------

7)

<u>29</u>	30	31	<u>32</u>	<u>33</u>	34	<u>35</u>	<u>36</u>
-----------	----	----	-----------	-----------	----	-----------	-----------

8)

<u>45</u>	<u>46</u>	47	<u>48</u>	49	<u>50</u>	<u>51</u>	52
-----------	-----------	----	-----------	----	-----------	-----------	----

9)

<u>89</u>	90	<u>91</u>	<u>92</u>	<u>93</u>	<u>94</u>	95	<u>96</u>
-----------	----	-----------	-----------	-----------	-----------	----	-----------