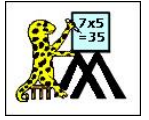


Name


Date



## COUNT BACK UP TO 100 BY ONES SHEET 2

Each of these sequences goes back by ones.

Fill in the missing numbers.



1)

51			48	47			44
----	--	--	----	----	--	--	----

2)

	69		67		65	64	
--	----	--	----	--	----	----	--

3)

80		78		76	75		
----	--	----	--	----	----	--	--

4)

	34		32			29	28
--	----	--	----	--	--	----	----

5)

78		76	75				
----	--	----	----	--	--	--	--

6)

	90			87	86		
--	----	--	--	----	----	--	--

7)

		69		67			64
--	--	----	--	----	--	--	----

8)


41			38			35	
----	--	--	----	--	--	----	--

9)

		18			15		
--	--	----	--	--	----	--	--

Name

Date



# COUNT BACK UP TO 100 BY ONES SHEET 2 ANSWERS

1)

51	<u>50</u>	<u>49</u>	48	47	<u>46</u>	<u>45</u>	44
----	-----------	-----------	----	----	-----------	-----------	----

2)

<u>70</u>	69	<u>68</u>	67	<u>66</u>	65	64	<u>63</u>
-----------	----	-----------	----	-----------	----	----	-----------

3)

80	<u>79</u>	78	<u>77</u>	76	75	<u>74</u>	<u>73</u>
----	-----------	----	-----------	----	----	-----------	-----------

4)

<u>35</u>	34	<u>33</u>	32	<u>31</u>	<u>30</u>	29	28
-----------	----	-----------	----	-----------	-----------	----	----

5)

78	<u>77</u>	76	75	<u>74</u>	<u>73</u>	<u>72</u>	<u>71</u>
----	-----------	----	----	-----------	-----------	-----------	-----------

6)

<u>91</u>	90	<u>89</u>	<u>88</u>	87	86	<u>85</u>	<u>84</u>
-----------	----	-----------	-----------	----	----	-----------	-----------

7)

<u>71</u>	<u>70</u>	69	<u>68</u>	67	<u>66</u>	<u>65</u>	64
-----------	-----------	----	-----------	----	-----------	-----------	----

8)

41	<u>40</u>	<u>39</u>	38	<u>37</u>	<u>36</u>	35	<u>34</u>
----	-----------	-----------	----	-----------	-----------	----	-----------

9)

<u>20</u>	<u>19</u>	18	<u>17</u>	<u>16</u>	15	<u>14</u>	<u>13</u>
-----------	-----------	----	-----------	-----------	----	-----------	-----------